

# Funzioni e grafici

prof. Andres Manzini

Università degli studi di Modena e Reggio Emilia  
Dipartimento di Scienze e Metodi dell'Ingegneria  
Corso MOOC "Iscriversi a Ingegneria Reggio Emilia"

## Definizione

Si dice funzione (o applicazione) ogni legge tra 2 insiemi  $A$  e  $B$  tale che *ad ogni* elemento dell'insieme  $A$  fa corrispondere *uno e un solo* elemento del secondo insieme  $B$ .

$A$  è detto Dominio della funzione  $f$ ;

$B$  è detto Codominio della funzione  $f$ .

Notazioni per la funzione  $f$ :

$$f : A \longrightarrow B \quad A \xrightarrow{f} B$$

Presi gli elementi  $a \in A$  e  $b \in B$ , allora  $f$  è una funzione se

$$\forall a \in A \exists ! b \in B : b = f(a)$$

Nella scrittura

$$b = f(a)$$

- $a$  è la variabile indipendente
- $b$  è la variabile dipendente
- $b = f(a)$  si può dire *immagine* di  $a$  oppure *trasformato* di  $a$  attraverso  $f$  oppure *valore* di  $f$  in  $a$ .
- un valore  $a : f(a) = b$  si dice *controimmagine* di  $b$  oppure *antitrasformato* di  $b$ .

Altri modi per esprimere la funzione  $f$  sono

$$b = f(a) \quad f : a \longrightarrow f(a)$$

- Dato l'insieme  $A$  composto dagli studenti di una scuola e l'insieme  $B$  delle classi di una scuola, la corrispondenza che associa ad ogni studente la sua classe è una funzione.
- Dato l'insieme  $A$  composto dai docenti di una scuola e l'insieme  $B$  delle materie insegnate in una scuola, la corrispondenza che associa ad ogni professore la materia insegnata NON è una funzione.
- Dato  $A = \mathbb{N}$  e  $B = \mathbb{R}$ , definisco la funzione  $f : A \longrightarrow B$  tale che  $a \longrightarrow 2a + 3$ . Per tale funzione varrà, ad esempio,  $1 \longrightarrow 5$ , cioè  $f(1) = 5$ .  
N.B.  $f(\frac{1}{2})$  non è 4, perché  $\frac{1}{2} \notin A$  quindi  $f(\frac{1}{2})$  non esiste!
- Dato  $A = \mathbb{R}^3$  e  $B = \mathbb{R}^2$ , posso definire la funzione

$$(x, y, z) \xrightarrow{f} (2x - 3z, y^2 - 2x + 2z)$$

# Funzione reale di variabile reale

Nello studio dell'analisi matematica solitamente si attribuisce alla variabile indipendente il simbolo  $x$ , mentre alla variabile dipendente il simbolo  $y$ . Quindi solitamente una funzione è individuata da

$$y = f(x)$$

e siccome solitamente gli insiemi  $A, B \subseteq \mathbb{R}$  si dice che  $y = f(x)$  è una funzione *reale* di una variabile *reale*.

Le scritture e i simboli sono comunque convenzionali, e occorre saperli interpretare. Così scrivere

$$f(x) = x^2 + 3x$$

significa che  $\forall x \in A$  associo  $y \in B : y = x^2 + 3x$ . Sarà quindi

$$f(5) = 5^2 + 3 \cdot 5 = 40 \quad f(k) = k^2 + 3k \quad f(2x+3) = (2x+3)^2 + 3(2x+3)$$

# Dominio di una funzione

Nella seguente presentazione, le funzioni trattate sono di una variabile reale ( $x$ ) a valori reali ( $y$ ), quindi  $A, B \subseteq \mathbb{R}$  e, se non diversamente specificato, l'insieme  $A$  (detto dominio della funzione) è il più grande sottoinsieme di  $\mathbb{R}$  dove  $f$  ha significato, mentre  $B \equiv \mathbb{R}$ . L'insieme  $f(A)$  (trasformato del dominio di  $f$ ) viene detto Immagine di  $f$  e si indica con  $Im(f)$ . In generale quindi  $Im(f) \neq B$  (le funzioni in cui  $Im(f) \equiv B$  si dicono *suriettive*).

- Le funzioni razionali intere hanno come dominio (spesso indicato con la lettera  $D$ )  $\mathbb{R}$ .
- Nelle funzioni razionali fratte non appartengono al dominio i valori che rendono nullo il denominatore.

Esempio: per la funzione

$$f(x) = \frac{2x^3 - 4x + 5}{x^2 - x}$$

occorre porre

$$x^2 - x \neq 0 \rightarrow x \neq 0 \wedge x \neq 1 \rightarrow D = (-\infty, 0) \cup (0, 1) \cup (1, +\infty)$$

# Dominio di una funzione

- Le funzioni irrazionali (con indice di radice pari) hanno come dominio l'insieme dei valori che rendono il radicando non negativo). Le funzioni irrazionali (con indice di radice dispari) hanno come dominio  $\mathbb{R}$ .

Esempio: per la funzione

$$f(x) = \sqrt{x^2 - 2x - 3}$$

occorre porre

$$x^2 - 2x - 3 \geq 0 \rightarrow x \leq -1 \vee x \geq 3 \rightarrow D = (-\infty, -1] \cup [3, +\infty)$$

mentre la funzione  $f(x) = \sqrt[5]{x^2 - 2x - 3}$  ha come dominio  $\mathbb{R} = (-\infty, +\infty)$

# Dominio di una funzione

- Le funzioni esponenziali e le funzioni goniometriche seno e coseno hanno come dominio  $\mathbb{R}$ .
- Le funzioni logaritmiche hanno come dominio l'insieme dei valori che rendono l'argomento del logaritmo positivo, e la base del logaritmo positiva e diversa da 1.
- La funzione  $f(x) = \tan x$  ha come dominio  $D = \mathbb{R} \setminus \{k\frac{\pi}{2}, k \in \mathbb{Z}_0\}$ .
- Le funzioni goniometriche inverse  $f(x) = \arcsin x$  e  $f(x) = \arccos x$  hanno come dominio l'insieme  $[-1, 1]$ , mentre la funzione  $f(x) = \arctan x$  ha come dominio  $\mathbb{R}$ .
- Nelle funzioni del tipo  $f(x) = A(x)^{B(x)}$  occorre porre la condizione  $A(x) > 0$ .



# Gráfico di una funzione

Il gráfico di una funzione ( $\mathcal{G}_f$ ) è in generale un sottoinsieme del piano cartesiano  $\mathbb{R}$

$$\mathcal{G}_f = \{(x, y) \in \mathbb{R} : y = f(x)\}$$

Il gráfico è formato da tutte quelle coppie ordinate tali per cui la seconda componente è l'immagine della prima componente attraverso la funzione  $f$ .

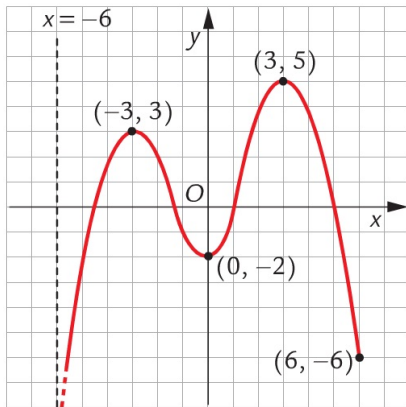
Esempio: data

$$f(x) = x^2 + 5x$$

essendo  $f(1) = 6$ , allora il punto  $(1, 6) \in \mathcal{G}_f$ .

Viceversa, conoscere il gráfico di una funzione consente di ottenere molte informazioni sulla funzione stessa.

# Grafico di una funzione

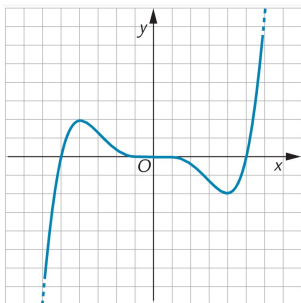
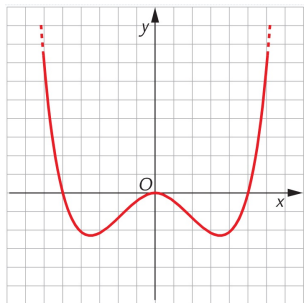


- Dominio di  $f$
- $Im(f)$
- Immagine di un punto
- Controimmagine di un punto
- Segno della funzione

# Simmetrie

Si consideri la funzione  $f(x)$  e sia  $D \subseteq \mathbb{R}$  il suo dominio. Allora

- $f$  si dice funzione pari se, per ogni  $x \in D$  vale  $f(-x) = f(x)$ . Geometricamente il grafico di una funzione pari presenta una simmetria rispetto all'asse delle ordinate.
- $f$  si dice funzione dispari se, per ogni  $x \in D$  vale  $f(-x) = -f(x)$ . Geometricamente il grafico di una funzione pari presenta una simmetria rispetto all'origine degli assi.



# Funzioni inverse

Si consideri la funzione  $f$  e sia  $D \subseteq \mathbb{R}$  il suo dominio. Se succede che per ogni immagine  $y \in f(D)$  esiste un solo valore di  $x \in D$  tale che  $f(x) = y$  allora la funzione  $f$  si dice invertibile. In particolare, data

$$f : D \longrightarrow \mathbb{R}, x \longrightarrow y = f(x)$$

con le caratteristiche descritte sopra, potrò definire

$$f^{-1} : f(D) \longrightarrow D, y \longrightarrow x = f^{-1}(y)$$

Esempio: la funzione  $f(x) = 5x + 2$  è invertibile e l'equazione  $5x + 2 = y$  da l'espressione per la funzione inversa

$$f^{-1}(y) = \frac{y - 2}{5}$$

Geometricamente il grafico della funzione inversa  $\mathcal{G}_{f^{-1}}$  è ottenibile a partire dal grafico  $\mathcal{G}_f$  mediante una simmetria rispetto alla bisettrice del primo e terzo quadrante.

## Esercizio

Data la funzione  $f(x) = \frac{x^2 - 1}{2x}$ , determinare il suo dominio, l'immagine e le eventuali controimmagini di 1 e verificare se la funzione è pari o dispari

## Esercizio

Data la funzione  $f(x) = \frac{x^2 - 1}{2x}$ , determinare il suo dominio, l'immagine e le eventuali controimmagini di 1 e verificare se la funzione è pari o dispari

- Essendo una funzione razionale fratta, occorre porre  $2x \neq 0 \rightarrow x \neq 0$ . Per cui

$$D = (-\infty, 0) \cup (0, +\infty)$$

## Esercizio

Data la funzione  $f(x) = \frac{x^2 - 1}{2x}$ , determinare il suo dominio, l'immagine e le eventuali controimmagini di 1 e verificare se la funzione è pari o dispari

- Essendo una funzione razionale fratta, occorre porre  $2x \neq 0 \rightarrow x \neq 0$ . Per cui

$$D = (-\infty, 0) \cup (0, +\infty)$$

- l'immagine di 1, ovvero  $f(1)$  si ottiene sostituendo il valore  $x = 1$  nella funzione per cui

$$f(1) = \frac{1^2 - 1}{2 \cdot 1} = 0$$

## Esercizio

Data la funzione  $f(x) = \frac{x^2 - 1}{2x}$ , determinare il suo dominio, l'immagine e le eventuali controimmagini di 1 e verificare se la funzione è pari o dispari

- Le eventuali controimmagini di 1, ovvero  $f^{-1}(1)$  si possono ricavare risolvendo l'equazione  $f(x) = 1$ , ovvero

$$\frac{x^2 - 1}{2x} = 1 \Leftrightarrow x^2 - 2x - 1 = 0 \Leftrightarrow x = 1 \pm \sqrt{2}$$



## Esercizio

Data la funzione  $f(x) = \frac{x^2 - 1}{2x}$ , determinare il suo dominio, l'immagine e le eventuali controimmagini di 1 e verificare se la funzione è pari o dispari

- Le eventuali controimmagini di 1, ovvero  $f^{-1}(1)$  si possono ricavare risolvendo l'equazione  $f(x) = 1$ , ovvero

$$\frac{x^2 - 1}{2x} = 1 \Leftrightarrow x^2 - 2x - 1 = 0 \Leftrightarrow x = 1 \pm \sqrt{2}$$

- Per valutare le eventuali simmetrie occorre calcolare  $f(-x)$

$$f(-x) = \frac{(-x)^2 - 1}{2(-x)} = -\frac{x^2 - 1}{2x} = -f(x)$$

quindi  $f$  è dispari.

## Esercizio

Data la funzione  $f(x) = 2 - \log_5(x^3 - 1)$ , ricavare le espressioni di  $f(2x)$ , di  $f(x^2)$  e della funzione inversa  $x = f^{-1}(y)$

## Esercizio

Data la funzione  $f(x) = 2 - \log_5(x^3 - 1)$ , ricavare le espressioni di  $f(2x)$ , di  $f(x^2)$  e della funzione inversa  $x = f^{-1}(y)$

- $f(2x) = 2 - \log_5((2x)^3 - 1) = 2 - \log_5(8x^3 - 1)$

## Esercizio

Data la funzione  $f(x) = 2 - \log_5(x^3 - 1)$ , ricavare le espressioni di  $f(2x)$ , di  $f(x^2)$  e della funzione inversa  $x = f^{-1}(y)$

- $f(2x) = 2 - \log_5((2x)^3 - 1) = 2 - \log_5(8x^3 - 1)$
- $f(x^2) = 2 - \log_5((x^2)^3 - 1) = 2 - \log_5(x^6 - 1)$

## Esercizio

Data la funzione  $f(x) = 2 - \log_5(x^3 - 1)$ , ricavare le espressioni di  $f(2x)$ , di  $f(x^2)$  e della funzione inversa  $x = f^{-1}(y)$

- $f(2x) = 2 - \log_5((2x)^3 - 1) = 2 - \log_5(8x^3 - 1)$
- $f(x^2) = 2 - \log_5((x^2)^3 - 1) = 2 - \log_5(x^6 - 1)$
- ponendo  $2 - \log_5(x^3 - 1) = y$  si ha rispettivamente

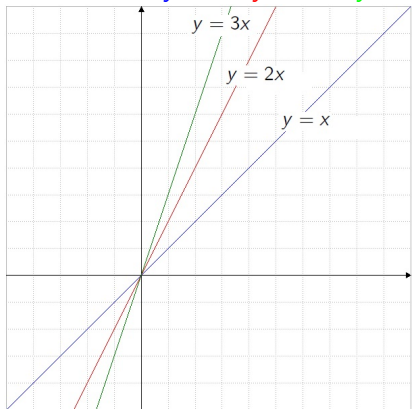
$$\log_5(x^3 - 1) = 2 - y \Leftrightarrow x^3 + 1 = 5^{2-y}$$

da cui

$$x = f^{-1}(y) = \sqrt[3]{5^{2-y} - 1}$$

Funzione potenza:  $f(x) = k \cdot x^\alpha$ , con  $\alpha \in \mathbb{Z}$

Caso  $\alpha = 1$ .  $y = x$ ,  $y = 2x$ ,  $y = 3x$

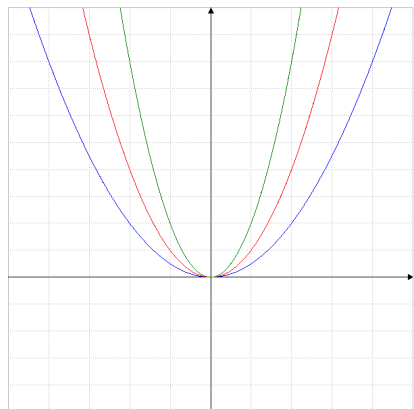


- Il grafico di  $f$  è rappresentato da una retta passante per l'origine
- $D = \mathbb{R}$
- $Im(f) = \mathbb{R}$
- funzione invertibile
- $k$  è detto coefficiente angolare

# Grafici di funzione

Funzione potenza:  $f(x) = k \cdot x^\alpha$ , con  $\alpha \in \mathbb{Z}$

Caso  $\alpha = 2$ .  $y = \frac{1}{2}x^2$ ,  $y = x^2$ ,  $y = 2x^2$

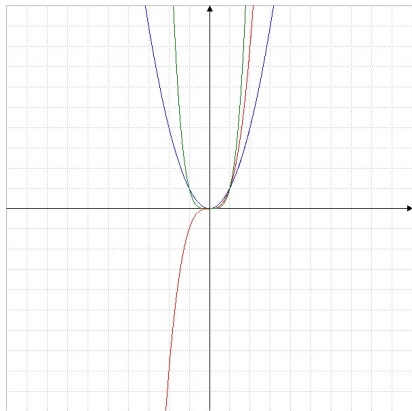


- Il grafico di  $f$  è rappresentato da una parabola avente vertice nell'origine e concavità rivolta verso l'alto (il basso) se  $k > 0$  ( $k < 0$ ).
- $D = \mathbb{R}$
- $Im(f) = \mathbb{R}^+$
- La funzione è pari e non è invertibile, a meno di considerarne una restrizione a  $x \geq 0$ .

# Grafici di funzione

Funzione potenza:  $f(x) = k \cdot x^\alpha$ , con  $\alpha \in \mathbb{Z}$

Confronto fra funzioni potenza.  $y = x^2$ ,  $y = x^3$ ,  $y = x^4$

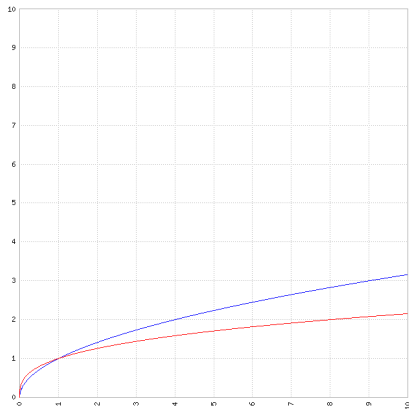


- $f(x)$  è pari se  $n$  è pari, mentre è dispari se  $n$  è dispari.
- $Im(f) = \mathbb{R}^+$  se  $n$  è pari, mentre  $Im(f) = \mathbb{R}$  se  $n$  è dispari.
- Le funzioni pari non sono invertibili, a meno di considerarne una restrizione a  $x \geq 0$ , mentre quelle dispari sono invertibili, in quanto funzioni biunivoche.



Funzione radice:  $f(x) = \sqrt{x}$ ,  $f(x) = \sqrt[3]{x}$

$$f(x) = \sqrt{x}$$

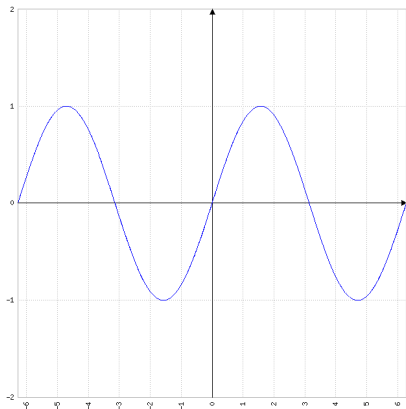


- $D = \text{Im}(f) = \mathbb{R}^+$
- $f$  è una funzione crescente, ovvero  
 $x_1 < x_2 \Leftrightarrow \sqrt{x_1} < \sqrt{x_2}$   
comunque presi  $x_1, x_2 \in D$ .

$$f(x) = \sqrt[3]{x}$$

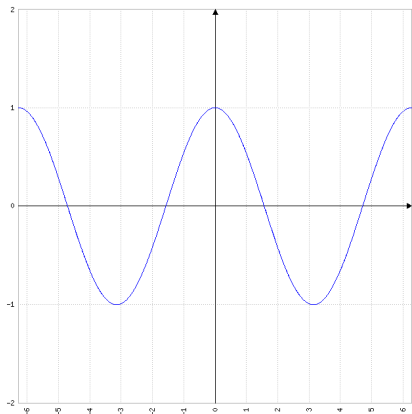
- $D = \text{Im}(f) = \mathbb{R}$
- $f$  è una funzione crescente, ovvero  
 $x_1 < x_2 \Leftrightarrow \sqrt[3]{x_1} < \sqrt[3]{x_2}$   
comunque presi  $x_1, x_2 \in \mathbb{R}$ .

Funzioni goniometriche:  $f(x) = \sin x$



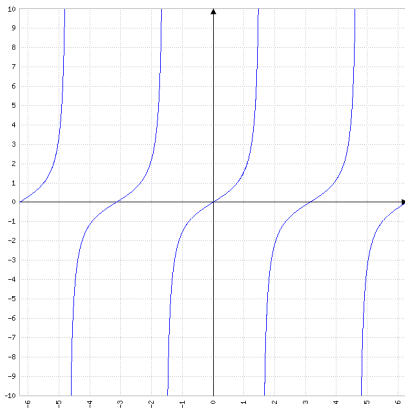
- $D = \mathbb{R}$
- $Im(f) = [-1, 1]$
- La funzione è periodica con periodo  $2\pi$ , ovvero  $\sin x = \sin(x + 2k\pi)$ , con  $k \in \mathbb{Z}$ .
- $\sin x = 0$  per  $x = k\pi$ , mentre assume valore massimo (pari a 1) per  $x = \frac{\pi}{2} + 2k\pi$  (con  $k \in \mathbb{Z}$ )
- $f$  è una funzione dispari, ovvero  $\sin(-x) = -\sin x$

Funzioni goniometriche:  $f(x) = \cos x$



- $D = \mathbb{R}$
- $Im(f) = [-1, 1]$
- La funzione è periodica con periodo  $2\pi$ , ovvero  $\cos x = \cos(x + 2k\pi)$ , con  $k \in \mathbb{Z}$ .
- $\cos x = 0$  per  $x = \frac{\pi}{2} + k\pi$ , mentre assume valore massimo (pari a 1) per  $x = 2k\pi$  (con  $k \in \mathbb{Z}$ )
- $f$  è una funzione pari, ovvero  $\cos(-x) = \cos x$

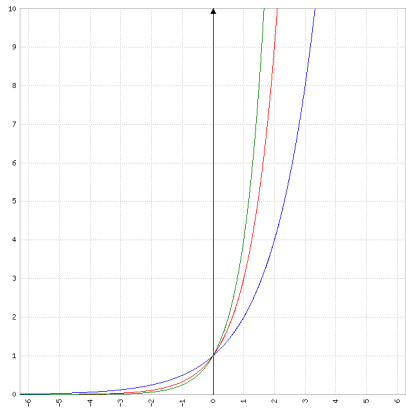
Funzioni goniometriche:  $f(x) = \tan x = \frac{\sin x}{\cos x}$



- $D = \mathbb{R} \setminus \left\{ \frac{\pi}{2} + k\pi \right\}$ , con  $k \in \mathbb{Z}$ .
- $Im(f) = \mathbb{R}$
- La funzione è periodica con periodo  $\pi$ , ovvero  $\tan x = \tan(x + k\pi)$ , con  $k \in \mathbb{Z}$ .
- $\tan x = 0$  per  $x = k\pi$
- $f$  è una funzione dispari, ovvero  $\tan(-x) = -\tan x$

La funzione esponenziale:  $f(x) = a^x$ , con  $a > 0$

Caso  $a > 1$ . Esempio:  $y = 2^x$ ,  $y = 3^x$ ,  $y = 4^x$

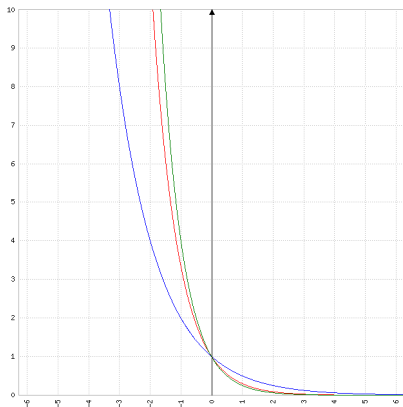


- $D = \mathbb{R}$ .
- $Im(f) = (0, +\infty)$
- La funzione è crescente, ovvero se  $a > 1$ ,  
 $x_1 < x_2 \Leftrightarrow a^{x_1} < a^{x_2}$ ,  
comunque presi  $x_1, x_2 \in \mathbb{R}$ .
- Dal confronto fra grafici si deduce anche che, prese due basi  $a > b > 0$ , si ha  
 $a^x > b^x$ , per  $x > 0$ ,  
 $a^x < b^x$ , per  $x < 0$ , mentre  
 $a^x = b^x = 1$ , per  $x = 0$

# Grafici di funzione

La funzione esponenziale:  $f(x) = a^x$ , con  $a > 0$

Caso  $0 < a < 1$ . Esempio:  $y = \left(\frac{1}{2}\right)^x$ ,  $y = \left(\frac{1}{3}\right)^x$ ,  $y = \left(\frac{1}{4}\right)^x$

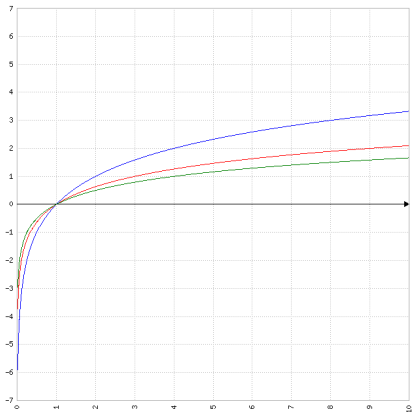


- $D = \mathbb{R}$ .
- $Im(f) = (0, +\infty)$
- La funzione è decrescente, ovvero se  $0 < a < 1$ ,  
 $x_1 < x_2 \Leftrightarrow a^{x_1} > a^{x_2}$ ,  
comunque presi  $x_1, x_2 \in \mathbb{R}$ .
- Dal confronto fra grafici si deduce anche che, prese due basi  $a > b > 0$ , si ha  
 $a^x > b^x$ , per  $x > 0$ ,  
 $a^x < b^x$ , per  $x < 0$ , mentre  
 $a^x = b^x = 1$ , per  $x = 0$

# Grafici di funzione

La funzione logaritmica:  $f(x) = \log_a(x)$ , con  $a > 0, a \neq 1$

Caso  $a > 1$ . Esempio:  $y = \log_2 x$ ,  $y = \log_3 x$ ,  $y = \log_4 x$

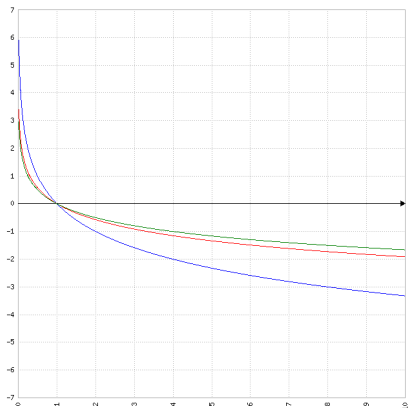


- $D = (0, +\infty)$ ,  $Im(f) = \mathbb{R}$
- La funzione è crescente, ovvero se  $a > 1$ ,  
 $x_1 < x_2 \Leftrightarrow \log_a x_1 < \log_a x_2$ ,  
comunque presi  
 $x_1, x_2 \in (0, +\infty)$ .
- Dal confronto fra grafici si deduce anche che, prese due basi  $a > b > 0$ , si ha  
 $\log_a x > \log_b x$ , per  
 $x \in (0, 1)$ ,  $\log_a x < \log_b x$ ,  
per  $x > 1$ , mentre  
 $\log_a x = \log_b x = 0$ , per  
 $x = 1$ .

# Grafici di funzione

La funzione logaritmica:  $f(x) = \log_a(x)$ , con  $a > 0, a \neq 1$

Caso  $0 < a < 1$ . Esempio:  $y = \log_{\frac{1}{2}} x$ ,  $y = \log_{\frac{1}{3}} x$ ,  $y = \log_{\frac{1}{4}} x$



- $D = (0, +\infty)$ ,  $Im(f) = \mathbb{R}$
- La funzione è decrescente, ovvero se  $0 < a < 1$ ,  
 $x_1 < x_2 \Leftrightarrow \log_a x_1 > \log_a x_2$ ,  
comunque presi  
 $x_1, x_2 \in (0, +\infty)$ .
- Dal confronto fra grafici si deduce anche che, prese due basi  $a > b > 0$ , si ha  
 $\log_a x > \log_b x$ , per  
 $x \in (0, 1)$ ,  $\log_a x < \log_b x$ ,  
per  $x > 1$ , mentre  
 $\log_a x = \log_b x = 0$ , per  
 $x = 1$ .



## Alcune considerazioni generali

- Il Dominio fornisce i valori (di  $x$ ) per cui **esiste** una funzione
- L'immagine di  $f$  fornisce i valori (di  $y$ ) che la funzione può **assumere**.

Esempio:  $f(x) = 5^x$  è una funzione che **esiste** per qualsiasi valore reale e **assume** solo valori positivi

- Funzione potenza  $x^n$ :  $f(1) = 1$  (Essendo  $1^n = 1$  con  $n$  intero)
- Funzione esponenziale  $a^x$ :  $f(0) = 1$  (Essendo  $a^0 = 1, \forall a > 0$ )
- Funzione logaritmica  $\log_a x$ :  $f(1) = 0$  (Essendo  $\log_a 1 = 0, \forall a > 0, a \neq 1$ )